

1. A feladat a National Geographic folyóirat vonatkozó számaihoz kapcsolódik. **5 pont**
 Az alábbi állítások hibásak. Húzd alá a téves kifejezést, és írd le a megoldást, hogy helyes legyen az állítás!

a) A Big Lonely Doug, az USA egyik legnagyobb duglászfenyője, 66 méter magas.

helyes kifejezés: **Kanada a fa méretének javítása 0,5 pont**

b) Az Egyesült Államokban élő siksíkaiitapi indiánok elsősorban marhákat tenyésztnek.

helyes kifejezés: **bölcény**

c) Az Amazonas folyó fölött húzódik a híres Queshuachaca híd, amely fűkötelekből áll, s az inka civilizáció készítette.

helyes kifejezés: **Apurimac**

d) A Guyanai-pajzs egy ősi tenger aljzatának maradványa, melynek üledékképződése a földtörténeti óidőben kezdődött.






helyes kifejezés: **Ősidő**

e) A Roraima-tepui egész Venezuela legmagasabb hegye.

helyes kifejezés: **Guyana A Pico Bolívaris elfogadható, ha a Roraima-tepui a hibás rész.**

2. A feladat Amerika országaihoz kapcsolódik. (Elemenként 1 pont) **10 pont**

a) Írd a megfelelő ország nevét a zászló alá!

| 1. | 2. | 3. | 4. | 5. |
|--|---|---|--|---|
|  |  |  |  |  |
| Chile | Peru | Guyana | Argentína | Kolumbia |

b) Az felsorolt országok közül melyek határosak Venezuelával? Írd a számokat a pontozott vonalra!

3 ; 5

c) Részben a fentebbi országok egyikében található Földünk legmagasabban fekvő, hajózható tava. Írd le a helyes válasz számát!

2

d) Mi a tó neve?

Titicaca-tó

e) Melyik ország fővárosa jelenti magyarul azt, hogy „jó levegő”? Írd le a helyes válasz számát!

4.

3. Tanulmányozd az ércképződést bemutató ábrát!

10 pont

Az ábrán látható számok a keletkezési helyüknek megfelelően jelölik az egyes érceket. Írd be a számok mellé az általuk jelölt ércek neveit! (Elemenként 1 pont)

| | |
|--|--|
| | <p><u>Megoldás:</u></p> <p>1, 4, 6, 7, - arany ezüst, ólom, cink, réz</p> <p>3, 9- urán ón</p> <p>2-vas, króm</p> <p>5,8 – nikkel, platina</p> |
|--|--|

Milyen ércképződést mutat be az ábra? Húzd alá a helyes választ!

üledékes ércképződés

magmás ércképződés

4. Igaz-hamis

Megoldások

10 pont

| Állítások | Igaz | Hamis |
|---|------|-------|
| Kolumbia fővárosa Cartagena. | | X |
| Az inuitok ínycenc eledele a jegesmedve máj. | | X |
| Sir John Franklin által vezetett expedíció hajói az Erebus és a Terror. | X | |
| Az inuitok várható élettartama a sok hal fogyasztása miatt az átlagosnál magasabb. | | X |
| A Franklin expedíciót kutatók a mumifikálódott holttesteket vizsgálva jelentős ólom szintet tapasztaltak. | X | |
| A Dél-amerikai Grey gleccser az utóbbi 35 évben 2 km-rel lett rövidebb. | X | |
| A Torres del Paine Nemzeti Park Argentína kedvelt turista paradicsoma. | | X |
| Az „ahorita” tipikus latin-amerikai válasz, ha sürgetünk valamit. | X | |
| A Mt. St. Helens vulkán híres 1980-as kitörésekor a hatalmas lávafolyás okozta a legnagyobb pusztítást. | | X |
| A négerék és az indiánok keverékét meszticnek nevezzük. | | X |

5. feladat

Megoldás:

inuksuk - emberszerű kőéptmény

karibu- rénszarvas

iganuq- tengeri emlősök húsából (rozmár) készítik. A feldarabolt húsokat a az állat saját bőrébe, zsírába csomagolják, és földbe ássák. A következő év telén ássák ki fogyasztás céljából.

kiviaq- egy kibelezett főkát tömnek ki akár 400-500 le vadászott madárral (alkával), aztán fermentálják, mint az iganuq-ot. A madárhús megpuhul és a madarak kopasztása és megnyúzása után ehetővé válik.

tajrona- Kolumbiában élő indián őslakos vagy Kolumbia egyik jelentős nemzeti parkja.

popró- rituális eszköz, terméstökből készült edényke, amit a kolumbiai indián férfiak használnak. őrölt mézport tartanak benne amit a friss kokacserje leveleinek fogyasztásához használnak. Azösszerágot pépet a poporó falához tapasztják.....

nanuk- jegesmedve

Teyuna- kolumbiai indiánok, a tajronák régi fővárosa volt. Jelentése: Holdnővér. Most Ciudad Perdida.

inuit- emberek, Észak- Kanada őslakosai.

Machu Picchu- Inka romváros Peruban. 1450-körül építették és 1570-körül elnéptelenedett. 1911-ben fedezték fel.

6. feladat

30 pont

Oldd meg a vaktérképhez kapcsolódó feladatokat!

| | |
|--|---|
| | <p>Nevezd meg a kisbetűvel jelölt négy folyót és a nagybetűvel jelölt tájakat!</p> <p>a Mississippi b Orinoco c Amazonas d Paraná</p> <p>A: Kaliforniai-félsziget B: Mexikói-öböl C: Floridai-félsziget D: Antilák vagy Karib-szigetek</p> <p>E: A nevezetes szélességi kör neve és fokszáma: Baktérítő, d.sz. 23,5o</p> <p>Nevezd meg a római számmal jelölt országokat! A megnevezett országok neve után írd a rájuk vonatkozó alábbi, nagybetűvel jelölt állítások betűjelét! Csak egy országhoz tartozik kettő állítás!</p> |
|--|---|

| | Országok megnevezése | Az országokra vonatkozó állítások betűjele |
|-------|----------------------|--|
| I. | Mexikó | D |
| II. | Kuba F | F |
| III. | Jamaica A | A |
| IV. | Venezuela J | J |
| V. | Francia Guyana E | E |
| VI. | Kolumbia G | G |
| VII. | Peru C | C |
| VIII. | Bolívia I | I |
| IX. | Argentína H | H |
| X. | Brazília B ; K | B K |

Történelem

1. A feladat Amerika indián kultúráihoz kapcsolódik. (Elemenként 1 pont)
A következő állítások mely népre jellemzőek?

5 pont

| Állítások | A nép neve |
|---|--------------|
| 1. A 8. századtól a Yucatán- félszigetre költöztek. | MAJA |
| 2. Eredetileg kis létszámú nép volt az Andokban, a Cuzco völgyében. | INKA |
| 3. Ma élő leszármazottaik kecsuául beszélő földművesek, Peru lakosságának mintegy fele. | INKA |
| 4. Intenzív gazdálkodást folytattak, ún. úszó kerteket alakítottak ki. | AZTÉK |
| 5. A spanyol Cortez hódította meg ezt a népet. | AZTÉK / MAJA |

2. A következő komplex feladat az USA kialakulásával foglalkozik.

10 pont

A források felhasználásával és saját tudásod alapján oldd meg a feladatokat!

Akkor fogadható el az egy pont ha a sorban mind a négy elem szerepel

| | | | | |
|-----------------|------------------------|----------------------|---------------------------|------------------------|
| Északi államok | halászat | fakitermelés | hajóépítés | rum |
| Középső államok | állattenyésztés | kenyér gabona | textilmanufaktúrák | fémmanufaktúrák |
| Déli államok | ültetvények | dohány | rizs | indigó |

„György király háborúja” **1754** (évszám)

Letelepedési tilalom az Appalache-hegységtől nyugatra **1763**

„Sugar Act” **1764** (évszám)

„Stamp Act” **1765** (évszám)

A bostoni „teadélután” **1773.december 16.** (pontos dátum)

„Magától értetődőnek tartjuk azokat az igazságokat, hogy minden ember egyenlőként teremtett, az embert teremtője olyan elidegeníthetetlen Jogokkal ruházta fel, amelyekről le nem mondhat, s ezek közé a jogok közé tartozik a jog az Élethez és a Szabadsághoz, valamint a jog a Boldogságra való törekvésre.”

1776.július 4. (dátum) **Thomas Jefferson** (név) / **Benjamin Franklin**

3. A feladat az USA kialakulásával kapcsolatos.

10 pont

Tedd időrendbe a következő eseményeket! Írd az időrendet jelentő sorszámot az események előtti pontozott vonalra! A legkorábbi esemény az 1-es sorszámú! (Elemenként 1 pont)

2. Virginia megalapítása
7. Függetlenségi nyilatkozat
10. Az USA alkotmányának elfogadása
5. A „bostoni teadélután”
3. Georgia megalapítása
8. első saratogai csata
9. Versailles-i béke
4. Anglia megszerzi Kanadát – párizsi béke
1. Az első angol telepesek érkezése a kontinensre
6. A függetlenségi háború kirobbanása

4. A feladat az Amerikai Egyesült Államok kialakulásával kapcsolatos. 5 pont
Válaszolj az Amerikai Egyesült Államok létrejöttére vonatkozó kérdésekre a forrás és ismereteid alapján! Jelöld be a helyesnek ítélt választ! (Elemenként 1 pont)

I. Nevezd meg az USA államformáját! köztársaság / szövetségi köztársaság

II. Karikázd be a helyes állítás betűjelét!

- a) Az Egyesült Államok elnöke nevezi ki a Szenátus tagjait.
- b) **A törvényhozás két házának együttes ülése a Kongresszus.**
- c) Az Egyesült Államok elnöke nevezi ki a Képviselőház tagjait.

III. Karikázd be a helyes állítás betűjelét!

- a) **Az Egyesült Államok elnökét közvetett úton, az elektorok segítségével választják meg.**
- b) A választópolgárok közvetlenül az elnökjelöltekre szavazhatnak.
- c) Az elnököt a Kongresszus választja meg.

IV. Karikázd be a helyes állítás betűjelét!

- a) **Az Egyesült Államok választópolgárai beleszólhatnak a törvényhozó hatalom összetételébe, és a végrehajtó hatalom vezetőjének megválasztásában is szerepet játszanak.**
- b) Az elnök megvétózhatja a bírósági ítéleteket.
- c) A Legfelsőbb Bíróság a kormány felett áll.

V. Karikázd be a helyes állítás betűjelét!

- a) Az Egyesült Államokban nem érvényesül a hatalommegosztás.
- b) A Legfelsőbb Bíróság elnöke a végrehajtó hatalom feje.
- c) **A törvényhozó hatalom, a végrehajtó hatalom és a bírói hatalom egymástól elválasztva, egymást ellenőrizve működnek.**

5. A feladat az USA XIX. századi történetéhez kapcsolódik. 10 pont
Égészítsd ki a szöveget a megfelelő szóval! Nem tudsz minden szót felhasználni, egy szót csak egyszer használhatsz fel. (Elemenként 1 pont)

Az 1800-as évek elején az Egyesült Államokban az iparosodás egyetlen feltétele hiányzott, a **tőke**, ez akadálytalanul áramlott be **Angliából**. A szinte korlátlan lehetőségek a **tőkekivitel** célterületévé tették az országot, minthogy a szakképzett és szakképzetlen **bevándorlók tömegét** is vonzotta a Brit –szigetekről és Németországból.

Az első terjeszkedési hullámban (1803-19) hatalmas, de hosszú ideig használt területekkel gyarapodott az USA. Kedvező történelmi pillanatban (1803) vette meg **Franciaországtól** a **Mississippi** vízgyűjtő területét, **Louisianát**, majd 1810-13 –ban annektálta **Spanyolországtól Nyugat – Floridát**.

Az 1812-14 között zajló brit-amerikai háborúban biztosította magának a brit-kanadai vonzáskörbe tartozó északi területeit a **Nagy-tavakig**, amikor leverte a Tecumseh vezette indián törzsszövetség lázadását.

6. A feladat az USA XIX. századi történetéhez kapcsolódik.

15 pont

Fejtsd meg a keresztrejtvényt, és írd le, hogy a megfejtés hogyan kapcsolódik a rabszolgaság kérdéséhez!

(Elemenként 1 pont)

MEGFEJTÉS

| | | | | | | | | | | | | | | | | | | | | | | | | | | |
|-----|---|---|---|---|---|---|---|---|---|---|---|---|---|---|---|---|---|---|---|---|---|---|---|---|---|---|
| 1. | | | | | | R | o | b | e | r | t | L | e | e | | | | | | | | | | | | |
| 2. | | | | | | A | n | d | r | e | w | J | a | c | k | s | o | n | | | | | | | | |
| 3. | | | | | | J | o | s | e | d | e | S | a | n | M | a | r | t | i | n | | | | | | |
| 4. | | | | | H | o | m | e | s | t | e | d | a | c | t | | | | | | | | | | | |
| 5. | | | | | | | | | | | | S | h | e | r | m | a | n | | | | | | | | |
| 6. | | | | | | | | | | | | R | e | p | u | b | l | k | á | n | u | s | | | | |
| 7. | | | | | B | e | n | i | t | o | J | u | á | r | e | z | | | | | | | | | | |
| 8. | | | | | M | i | s | s | o | u | r | i | - | k | o | m | p | r | o | m | i | s | s | z | u | m |
| 9. | a | b | o | l | i | c | i | o | n | i | z | m | u | s | | | | | | | | | | | | |
| 10. | | | | | | | | | | | | A | p | p | o | m | a | t | o | x | | | | | | |
| 11. | | | | | | | | | | | | S | i | m | o | n | B | o | l | i | v | á | r | | | |
| 12. | | | | | | | | | | | | A | n | d | r | e | w | J | o | h | n | s | o | n | | |
| 13. | | | | | | | | | | | | J | e | f | f | e | r | s | o | n | D | a | v | i | s | |

Megfejtés: Beecher Stowe

Magyarázat: A Tamás bátya kunyhójának írója, a rabszolgatartás ellenzője

7. A feladat az USA XIX. századi történetéhez kapcsolódik.

10 pont

Húzzátok alá a három lehetőség közül azt, ami igazgá teszi a mondatot! (Elemenként 1 pont)

- Csak a **harcos** / **legyőzött** / **halott** indián a jó indián.
- A nagy **fekete** / **fehér** / **győztes** flotta Abraham Lincoln / Philip H. Sheridan / **Theodore Roosevelt** amerikai elnök parancsára a 20. század elején körbe hajózta a Földet.
- Az utolsó indián felkelés leverése **Wounded Knee** / **Little Big Horn** / **Gettysburg** mellett történt.
- Nem vett részt a Little Big Horn-i csatában **Őrükt Ló** / **Sánta Őz** / **Ülő Bika**.
- Melyik országot takarja a „férfiak nélküli ország” kifejezés: **Argentína** / **Uruguay** / **Paraguay**?
- Az Amerikai Egyesült Államok Spanyolország legyőzése után ellenőrzése alá vonta **Jamaikát** / **Puerto Ricót** / **Haitit**.
- Az indiánok a fehér emberek prériről való eltűnését és a bölények visszatérését remélték egy rituális táncból, amit angolul **indian dance** / **ghost dance** / **ghost indian dance**-nek neveznek.
- Az Amerikai Egyesült Államok célja **gazdasági befolyás szerzése** / **gyarmatok szerzése** / **mindkettő**.
- A 19. század második felében megindult a háború a salétromért, amely nagy mennyiségben volt megtalálható a **Paraná-völgyében** / **Atacama-sivatagban** / **Rio Negro mentén**.

8. A feladat Amerika 1865 utáni történetével kapcsolatos.

10 pont

Keressétek meg a táblázatban elrejtett 10 kifejezést, melyek az amerikai kontinens 1865 utáni történelmével kapcsolatosak! Bármelyik irány szóba jöhet! A kifejezéseket írjátok a pontozott vonalakra! (Elemenként 1 pont)

Megoldás:

| | | | | | | | | | | | | | | |
|---|---|---|---|---|---|---|---|---|---|---|---|---|---|---|
| S | T | P | Q | I | Z | A | O | K | U | B | A | B | E | A |
| N | L | R | L | D | U | R | T | K | I | E | G | Y | J | O |
| R | E | B | E | Z | S | G | I | B | O | C | T | M | P | A |
| O | V | F | A | Z | Y | L | R | E | I | T | N | O | R | F |
| H | E | G | K | I | E | A | N | N | A | M | O | N | F | I |
| G | S | A | L | É | T | R | O | M | H | Á | B | O | R | Ú |
| I | O | B | Z | Á | Ú | Ö | V | C | Í | H | É | P | W | H |
| B | O | U | S | V | H | L | E | A | N | I | L | Ó | Z | A |
| E | R | J | I | Í | U | L | Ő | D | T | T | A | L | Á | S |
| L | A | Y | T | Z | I | Ü | A | V | Q | U | X | I | O | E |
| T | T | E | A | H | Á | R | G | E | W | N | M | U | K | M |
| T | R | N | C | P | L | E | Z | L | Á | O | F | M | I | N |
| I | E | S | Z | E | L | L | E | M | T | Á | N | C | G | P |
| L | C | G | E | B | M | Y | P | Ő | X | L | I | J | H | N |
| A | N | R | O | T | A | S | C | A | M | A | N | A | P | A |

1. salétromháború
2. monopólium
3. rezervátum
4. Little Big Horn
5. Panama-csatorna

6. Chile
7. Kuba
8. frontier
9. szellemtánc
10. Roosevel